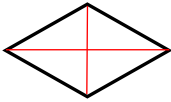
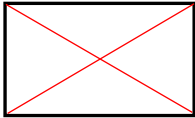
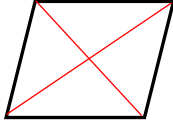
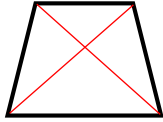



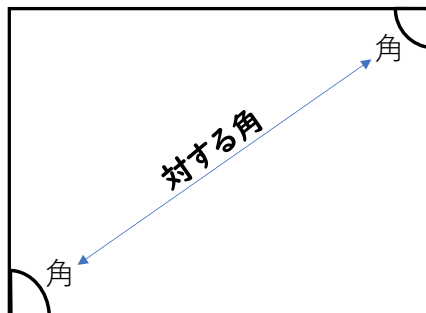
4年	垂直・平行と四角形（問題2）	ひにち	月 日
なまえ		りかい度 チェック	◎ りかいできた ○ ふつう △ むずかしかった

1 四角形の特ちょうを表にまとめます。①～③の特ちょうが、  
いつでもあてはまるものに“○”を書きましょう。また、あてはまらないものには“×”を書きましょう。

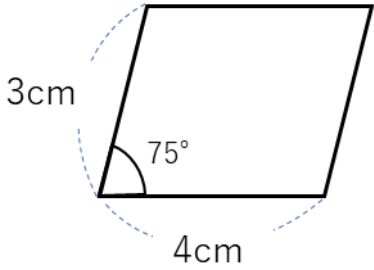
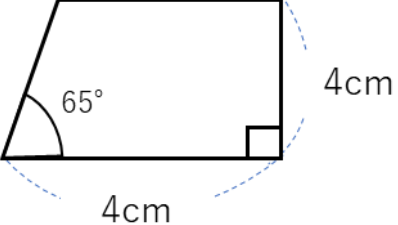
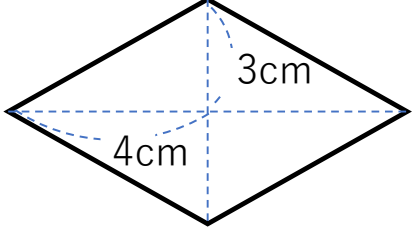
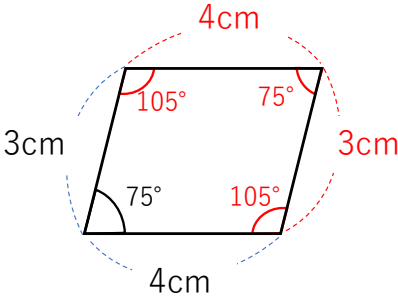
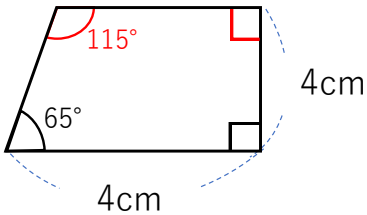
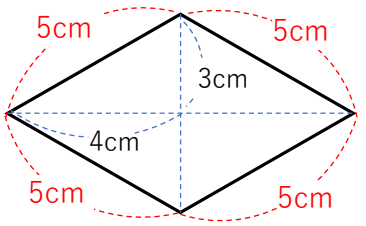
	ひし形	長方形	へいこうしへんけい 平行四辺形	台形	正方形
					
①二本の対角線の長さが等しい	×	○	×	×	○
②二本の対角線がそれぞれの真ん中の点で交わる	○	○	○	×	○
③二本の対角線が垂直である	○	×	×	×	○

それぞれ対角線を書いて確認をしてみよう。

『対角線』は、  
対する角をつなげた線だよ



2 下の図のような四角形を書きましょう！

①平行四辺形	②台形	③ひし形
		
 <p data-bbox="159 1086 438 1187">書いた図形を定規と分度器で確認しよう</p>	 <p data-bbox="662 1086 933 1187">書いた図形を定規と分度器で確認しよう</p>	 <p data-bbox="1117 1086 1396 1187">書いた図形を定規と分度器で確認しよう</p>