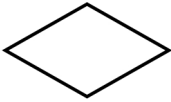


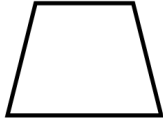

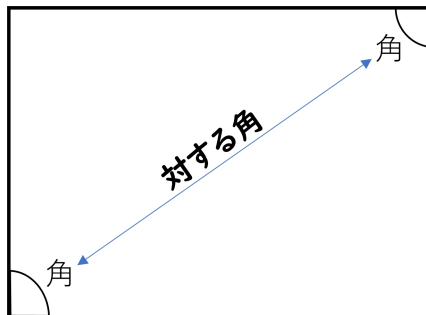


4年	垂直・平行と四角形（問題2）	ひにち	月 日
なまえ		りかい度 チェック	◎ りかいできた ○ ふつう △ むずかしかった

1 四角形の特ちょうを表にまとめます。①～③の特ちょうが、
いつでもあてはまるものに“○”を書きましょう。また、あてはまらないものには“×”を書きましょう。

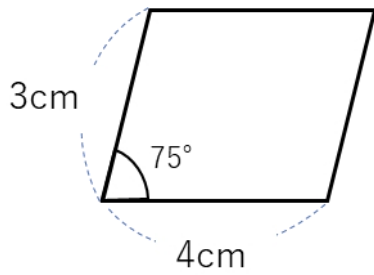
	ひし形	長方形	へいこうしへんけい 平行四辺形	台形	正方形
					
①二本の対角線の長さが等しい					
②二本の対角線がそれぞれの真ん中の点で交わる					
③二本の対角線が垂直である					

『対角線』は、
対になる角をつなげた線だよ！

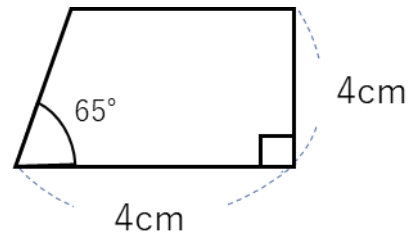


2 下の図のような四角形を書きましょう！

①平行四辺形



②台形



③ひし形

