

5年	合同な図形（問題3）	ひにち	月 日
なまえ		りかい度 チェック	◎ りかいできた ○ ふつう △ むずかしかった


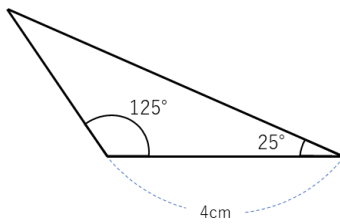
書き終わったら、^{じょうぎ}定規と^{がんどき}分度器で確認をすることが大切だよ。




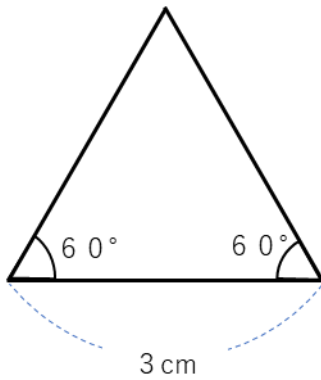
さいごんじまつげんまも
西園寺松座衛門くん

1 次の図形を書きましょう。

①



②



③

