

5年	角柱と円柱（問題1）	ひにち	月 日
なまえ		りかい度 チェック	◎ りかいできた ○ ふつう △ むずかしかった

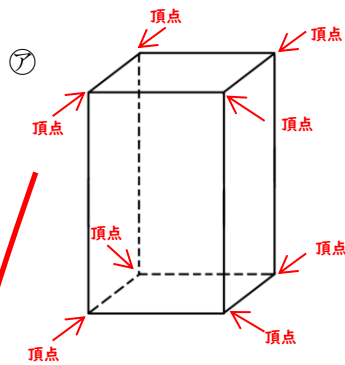
身の回りには、三角柱や四角柱の物を見つけよう。
 実際に物を見ながら、「側面」「底面」「辺」「頂点」を確認すると
 問題を解くときのイメージあくよ。



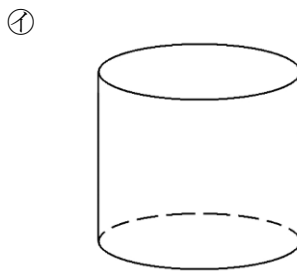
西園寺松座衛門くん

1 次の問題をときましょう。

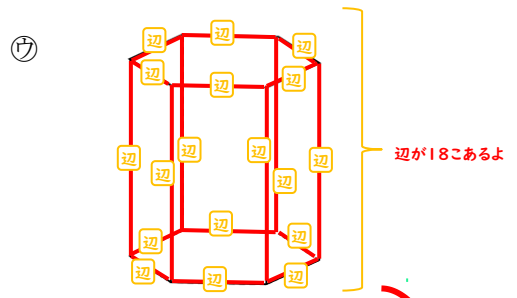
① ㉗、㉘、㉙の立体の名前を書きましょう。



四角柱



円柱



六角柱

② ㉗、㉙の頂点と辺の数は、それぞれいくつになりますか。

㉗の頂点の数 8

㉗の辺の数 12



㉙の頂点の数 12

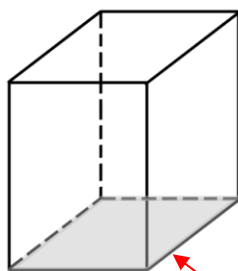
㉙の辺の数 18

四角柱
みつけ!



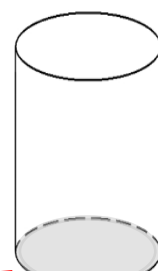
2 以下の問題に答えましょう。

① 底面はどこですか。
色をぬりましょう。



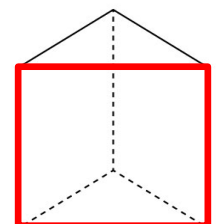
底面は、そこ底の面と書くよ

② 底面はどこですか。
色をぬりましょう。



③ 側面は何という形ですか。

四角形



四角形

