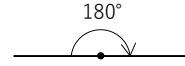


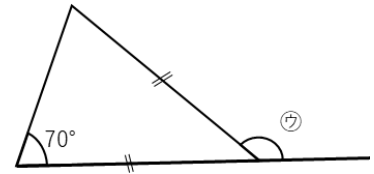
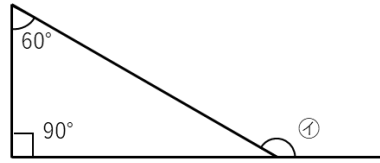
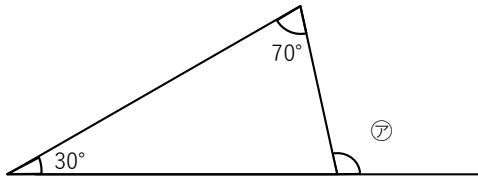
5年	図形の角（問題2）	ひにち	月 日
なまえ		りかい度 チェック	◎ りかいできた ○ ふつう △ むずかしかった

直線は 180° だよ。



さいまんじまつざんまん
西園寺松座衛門くん

1 下の図の角度をそれぞれ求めましょう。

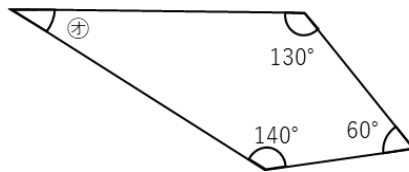
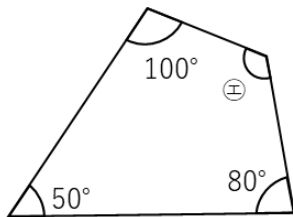


ア ()

イ ()

ウ ()

2 下の図の角度をそれぞれ求めましょう。



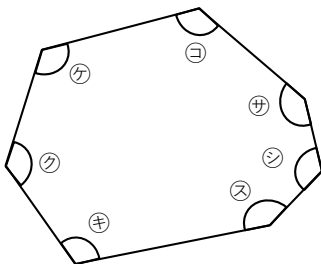
エ ()

オ ()

カ ()

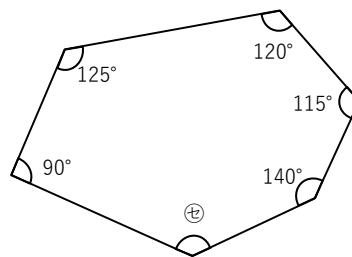
3 下の図の角度をそれぞれ求めましょう。

① 角ア、カ、ク、ケ、コ、ク、シ、ソの角度の合計は何度になるか。



()

② 角セの角度はいくらか。



()

かど
角が何個あるか数えると何角形かわかるよ。
5つあれば五角形。
かど
角を使って三角形はいくつ書けるかな。

