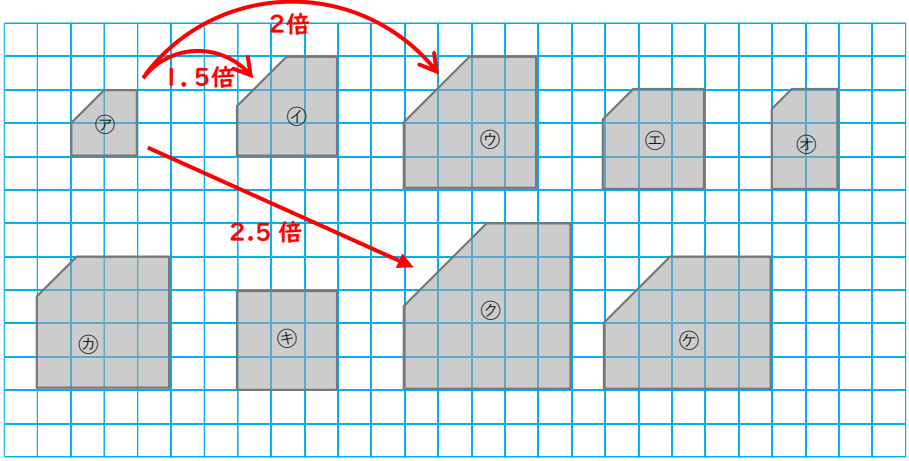


6年	拡大図と縮図（問題1）	ひにち	月 日
なまえ		りかい度 チェック	◎ りかいできた ○ ふつう △ むずかしかった

図は、定規と分度器を使って、ていねいに書きましょう。
書いた後は、必ず確認をしよう！



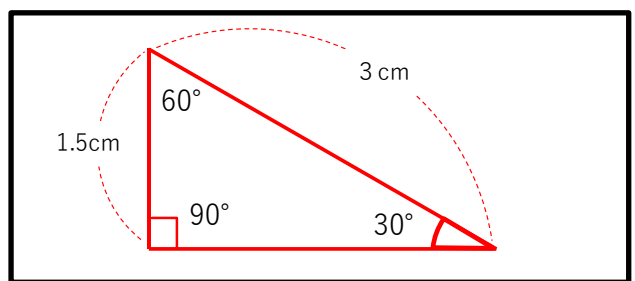
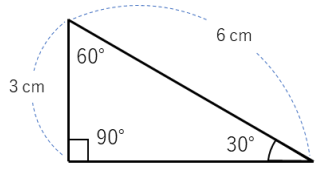
1 下の図中で、㉗の拡大図となるものをすべて選びましょう。



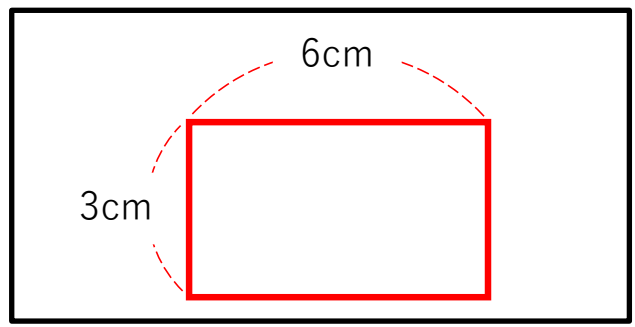
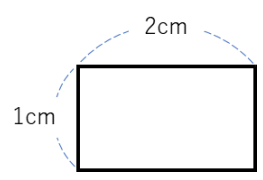
(㉘, ㉚, ㉜)

2 次の図を書きましょう。

① 下のような三角形の $\frac{1}{2}$ の縮図



② 下のような正方形の3倍の拡大図



③ 下のような正方形の1.5倍の拡大図

