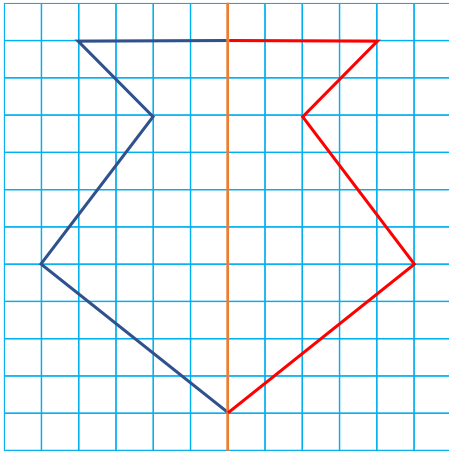


6年	対称な図形（問題2）	ひにち	月 日
なまえ		りかい度 チェック	◎ りかいできた ○ ふつう △ むずかしかった

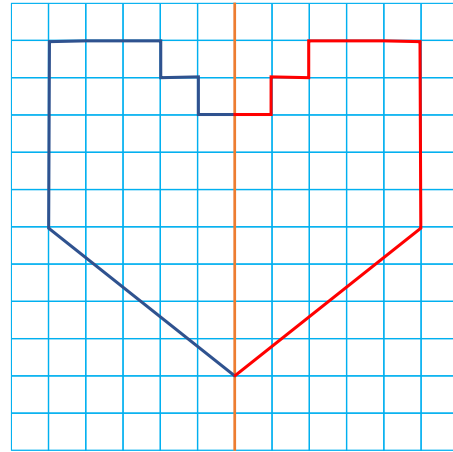
図形は定規を使って書きましょう。
書いた後は必ず確認をするよ！



1 次の図は、直線 L に対して線対称な形の一部です。形を完成させましょう。

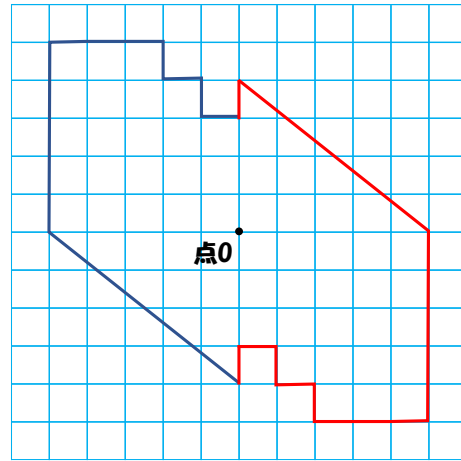
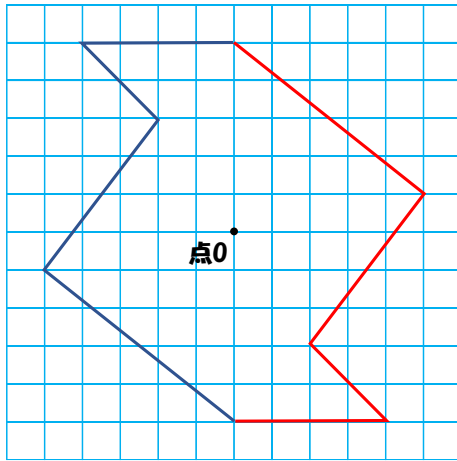


直線 L



直線 L

2 次の図は、点 O を対称の中心とする点対称な形の一部です。形を完成させましょう。



3 右図の正六角形について問題に答えましょう。

① この図形には対称となる軸は何本ありますか。

6本

② 点アと点イが重なるように対称の軸を図中へ書き入れましょう。

